

なまえ

あるなつのひのできごとです。

きょう パパとカブトムシを2ひきつかまえました

きのうはパパとクワガするとタを3ひきつかまえていました。

きのうときょうで

なんびきのカブトムシとクワガタをつかまえたでしょうか？



しき

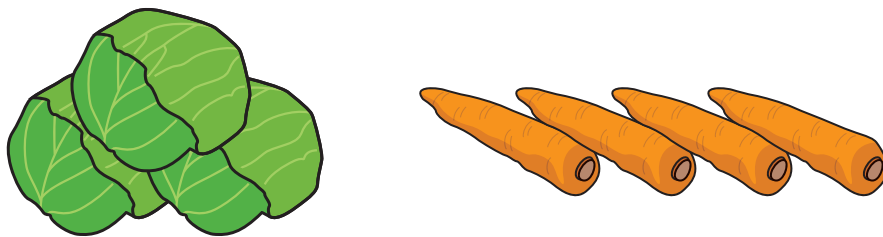
$$\square + \square = \square$$

こたえ

びき

きょうスーパーでキャベツ3つとにんじんを4ほんかいました。

あわせていくつやさいをかったでしょうか？



しき

$$\square + \square = \square$$


こたえ

こ

なまえ

きょうはなつまつりです。
きんぎょすくいをして3びきのきんぎょをつかまえました。
もういちどちょうせんするとさらに5ひきつかまえました。

1かいめと2かいめで
あわせてなんびきのきんぎょをつかまえたでしょうか？




しき

$$\square + \square = \square$$

こたえ

びき

きょうわたしはいちご8つとばなな1ほんたべました。
あわせていくつくだものをたべたでしょうか？



しき

$$\square + \square = \square$$


こたえ

こ

なまえ

うま1とうのあしのかずは4ほんです。

いま うまが2とうあそんでいます。
この2とうのあしのかずはぜんぶでなんぼんあるでしょうか？



しき


$$\square + \square = \square$$

こたえ

ほん

ペンギン1とうのあしのかずは2ほんです。

いま ペンギンが2ひきいます。ぜんぶであしはなんぼんありますか？



しき

$$\square + \square = \square$$

こたえ

ほん