

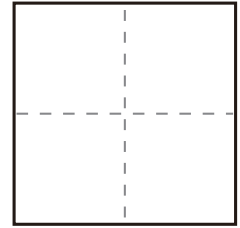
かず
数

いくつといくつ (5までの^{かず}数)

つぎ ^{もんだい} ^よ ^{こた}
次の問題を読んで答えましょう。

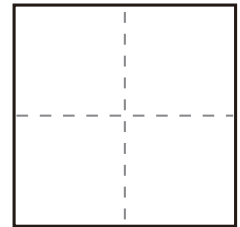
問1

2 は 1 と
●○



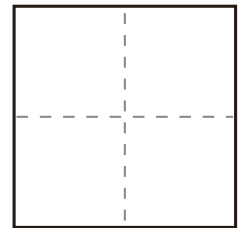
問2

3 は 1 と
●○○



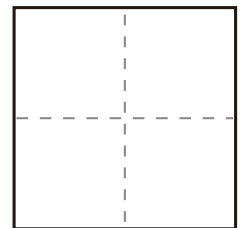
問3

3 は 2 と
●●○



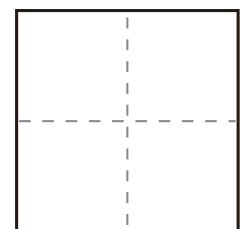
問4

4 は 1 と
●○○○



問5

4 は 2 と
●●○○



かず
数

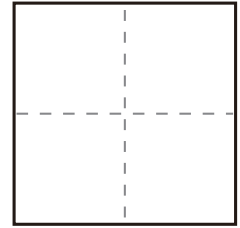
いくつといくつ (5までの^{かず}数)

つぎ ^{もんだい}の問題を^よ読んで^{こた}で答えましょう。

問1

4 は 3 と

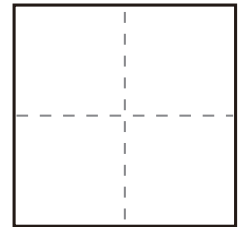
●●●○



問2

5 は 1 と

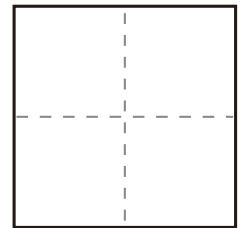
●○○○○



問3

5 は 2 と

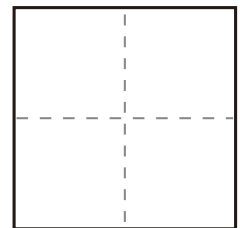
●●○○○



問4

5 は 3 と

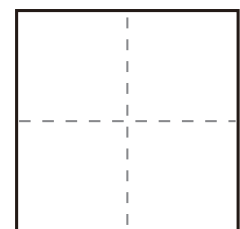
●●●○○



問5

5 は 4 と

●●●●○



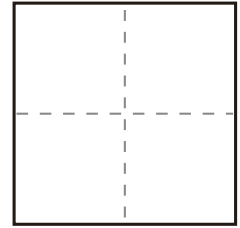
かず
数

いくつといくつ (5までの^{かず}数)

つぎ もんだい よ こた
次の問題を読んで答えましょう。

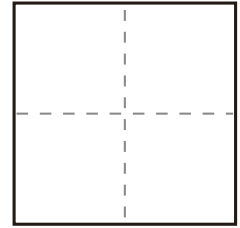
問1

3 は 2 と
●●○



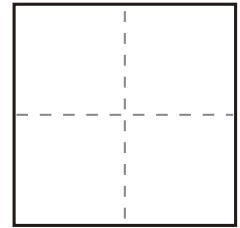
問2

4 は 3 と
●●●○



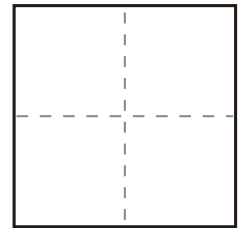
問3

5 は 4 と
●●●●○



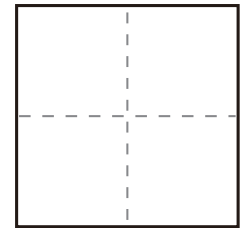
問4

2 は 1 と
●○



問5

3 は 1 と
●○○



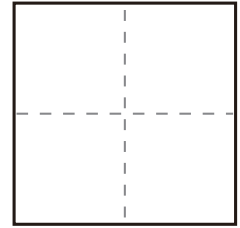
かず
数

いくつといくつ (5までの^{かず}数)

つぎ もんだい よ こた
次の問題を読んで答えましょう。

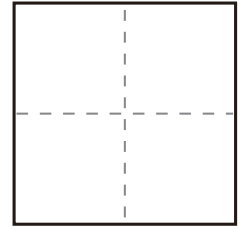
問1

5 は 3 と
●●●○○



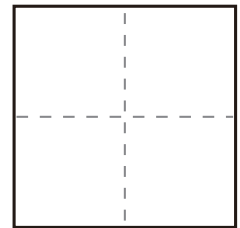
問2

2 は 1 と
●○



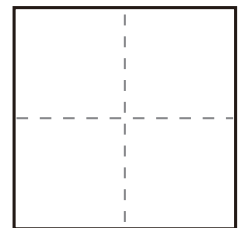
問3

4 は 2 と
●●○○



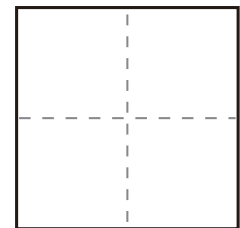
問4

3 は 1 と
●○○



問5

5 は 2 と
●●○○○



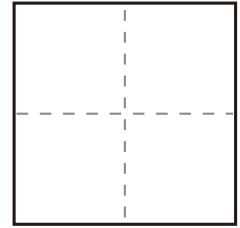
かず
数

いくつといくつ (5までの^{かず}数)

つぎ ^{もんだい}の問題を^よ読んで^{こた}で答えましょう。

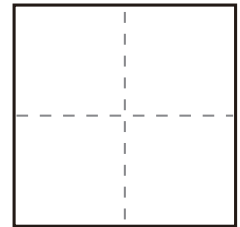
問1 3 は 1 と

●○○



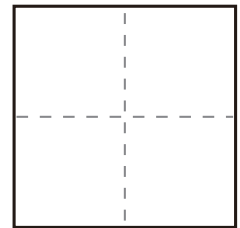
問2 5 は 2 と

●●○○○



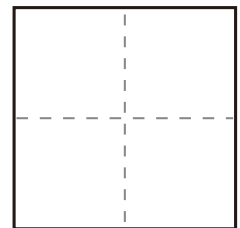
問3 4 は 2 と

●●○○



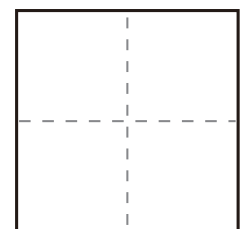
問4 5 は 3 と

●●●○○



問5 3 は 2 と

●●○



かず
数

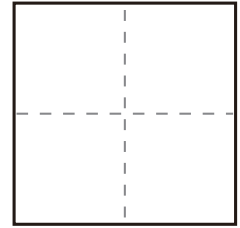
いくつといくつ (5までの^{かず}数)

つぎ ^{もんだい}の問題をよ ^{こた}読んで答えましょう。

問1

5 は 2 と

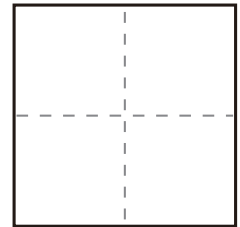
●●○○○



問2

4 は 1 と

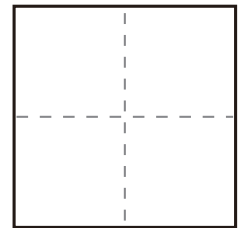
●○○○



問3

5 は 3 と

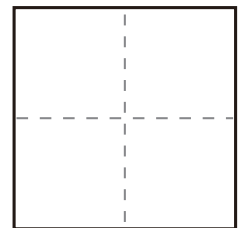
●●●○○



問4

2 は 1 と

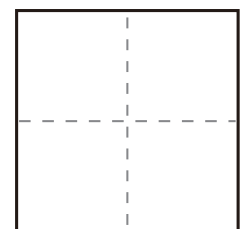
●○



問5

3 は 2 と

●●○



かず
数

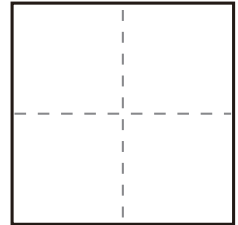
いくつといくつ (5までの^{かず}数)

つぎ ^{もんだい}の問題をよ ^{こた}読んで答えましょう。

問1

3 は 1 と

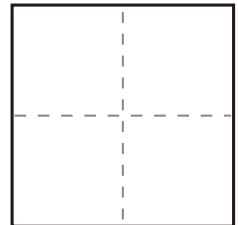
●○○



問2

4 は 2 と

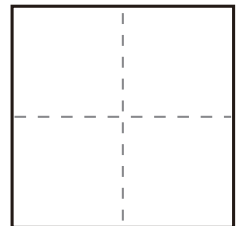
●●○○



問3

5 は 3 と

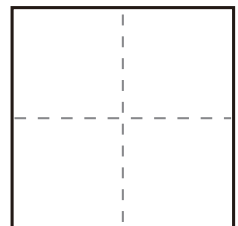
●●●○○



問4

5 は 4 と

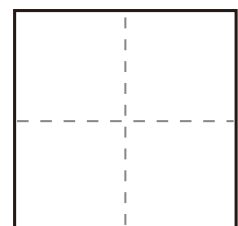
●●●●○



問5

3 は 2 と

●●○



かず
数

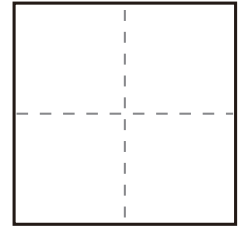
いくつといくつ (5までの^{かず}数)

つぎ ^{もんだい}の問題を^よ読んで^{こた}で答えましょう。

問1

4 は 1 と

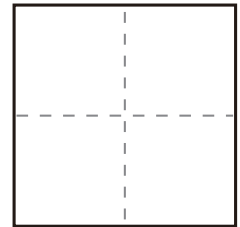
●○○○



問2

2 は 1 と

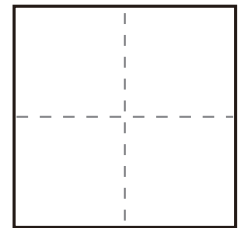
●○



問3

3 は 2 と

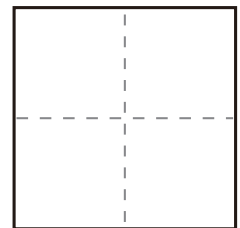
●●○



問4

5 は 3 と

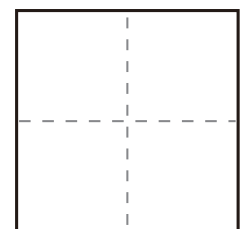
●●●○○



問5

5 は 2 と

●●○○○



かず
数

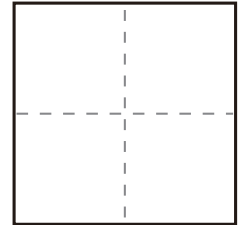
いくつといくつ (5までの^{かず}数)

つぎ ^{もんだい}の問題を^よ読んで^{こた}えましょう。

問1

5 は 1 と

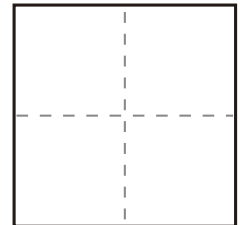
●○○○○



問2

5 は 3 と

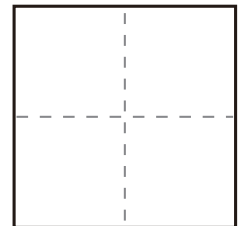
●●●○○



問3

4 は 2 と

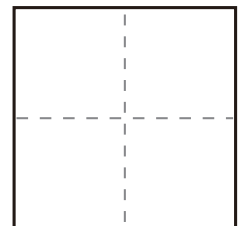
●●○○○



問4

4 は 1 と

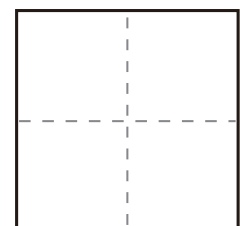
●○○○○



問5

3 は 2 と

●●○



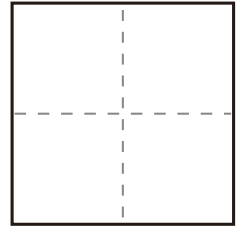
かず
数

いくつといくつ (5までの^{かず}数)

つぎ ^{もんだい}の問題を ^よ読んで ^{こた}で答えましょう。

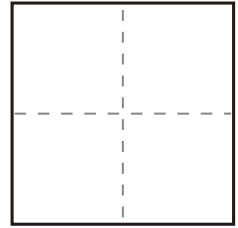
問1

3 は 2 と
●●○



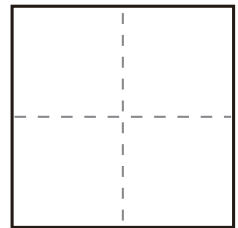
問2

2 は 1 と
●○



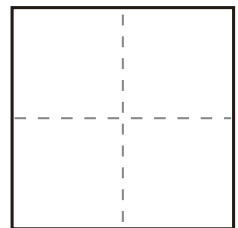
問3

5 は 4 と
●●●●○



問4

4 は 3 と
●●●○



問5

5 は 2 と
●●○○○

