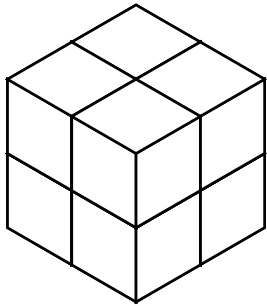


いくつ積み木を減らすか考える問題 B

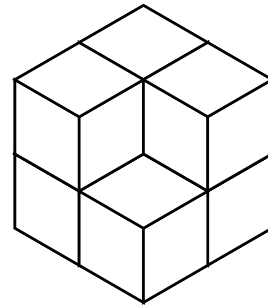
ひだり つき き から いくつ つき き を へ 減らすと

みぎ つみ き かたち 右の積み木の形になりますか？ へ 減らす かず を () に 答え まし ょ う。

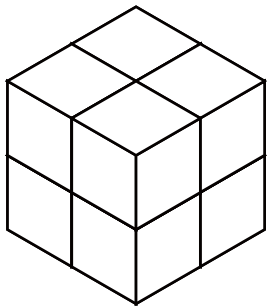
1



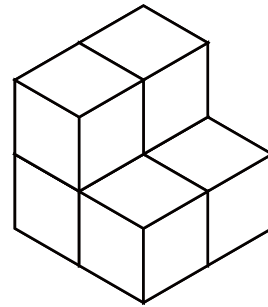
() へ 減らす



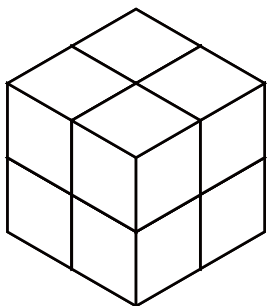
2



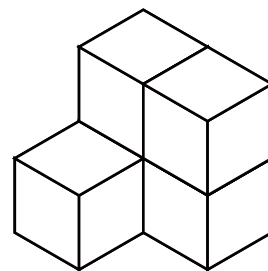
() へ 減らす



3



() へ 減らす

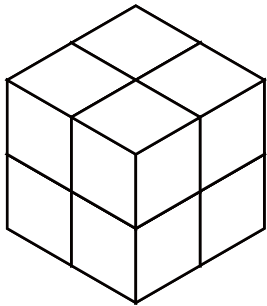


いくつ積み木を減らすか考える問題 B

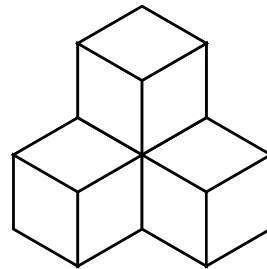
ひだり つき き から いくつ つき き を 減らすと

右の積み木の形になりますか？ 減らす数を () に答えましょう。

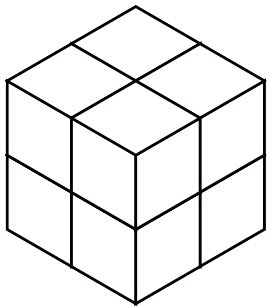
1



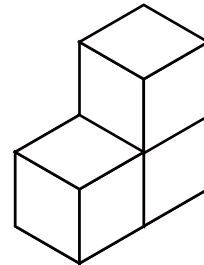
() 減らす



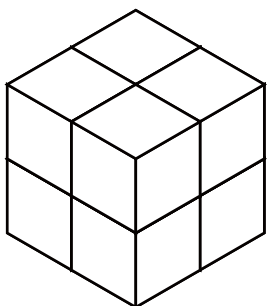
2



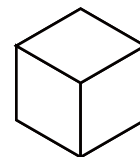
() 減らす



3



() 減らす

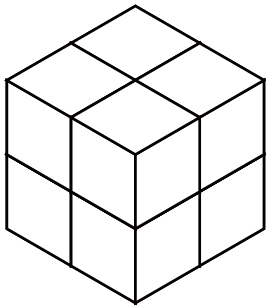


いくつ積み木を減らすか考える問題 B

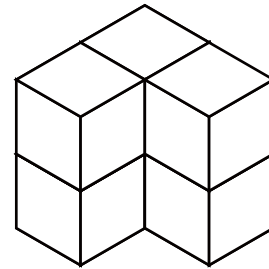
ひだり つき き から いくつ つき き を へ 減らすと

みぎ つみ き かたち 右の積み木の形になりますか？ へ 減らす かず を () に 答え まし ょう。

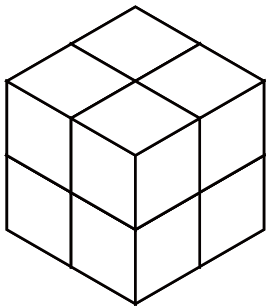
1



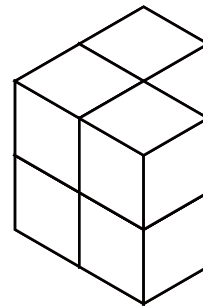

() へ 減らす



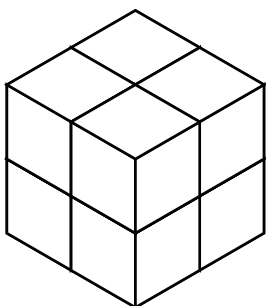
2



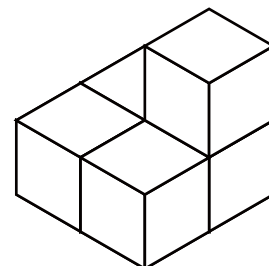
() へ 減らす



3



() へ 減らす

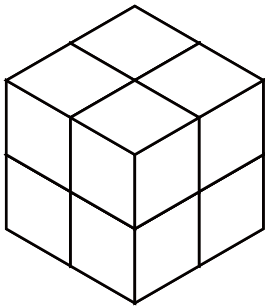


いくつ積み木を減らすか考える問題 B

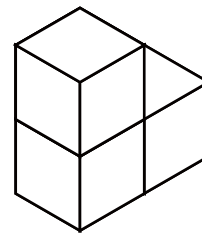
ひだり つき き から いくつ つき き を へ 減らすと

みぎ つみ き かたち 右の積み木の形になりますか？ へ 減らす かず を () に 答え まし ょう。

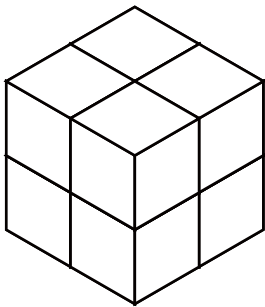
1



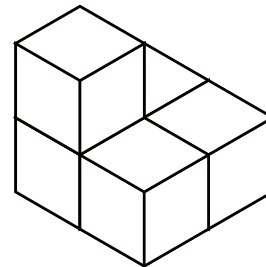

() へ 減らす



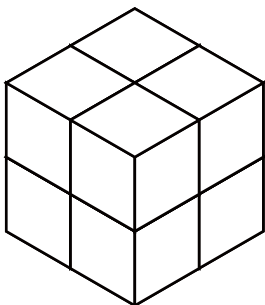
2



() へ 減らす



3



() へ 減らす

