

なんばんめ


じゅん ばん い ち かく にん
順番や位置を確認

が につ につ じ ぶん じ ぶん
月 日 時 分 ~ 時 分

なまえ

1 えをみて にかずを かきましょう。

まえ



うしろ

① いぬは まえから ばんめ

② うまは うしろから ばんめ

③ しかは うしろから ばんめ

④ うしは まえから ばんめ

⑤ ねこは なんばんめですか？ 2つの いいかたで こたえましょう。

・ まえから ばんめ

・ うしろから ばんめ

⑥ ぞうは なんばんめですか？ 2つの いいかたで こたえましょう。

・ まえから ばんめ

・ うしろから ばんめ

なんばんめ


じゅん ばん い ち かく にん
 順番や位置を確認

が につ じ ぶん じ ぶん
 月 日 時 分 ~ 時 分

なまえ

1 えをみて に どうぶつのなまえをかきましょう。

まえ



うしろ

① まえから 5ばんめは です。

② うしろから 6ばんめは です。

③ 1ばんまえの どうぶつは です。

④ うしろから 3ばんめは です。

⑤ まえから 4ばんめ、うしろから 5ばんめの
 どうぶつは です。

⑥ まえから 7ばんめ、うしろから 2ばんめの
 どうぶつは です。

⑦ まえから 2ばんめ、うしろから 7ばんめの
 どうぶつは です。

なんばんめ

じゅん ばん い ち かく にん
順番や位置を確認

が につ につ じ ぶん じ ぶん
月 日 時 分 ~ 時 分

なまえ


もんだいを よんで えに いろを ぬりましょう。

ちゅうい 「なんこめ」か「なんこ」かを よくよみましょう。


① みぎから 2こめ



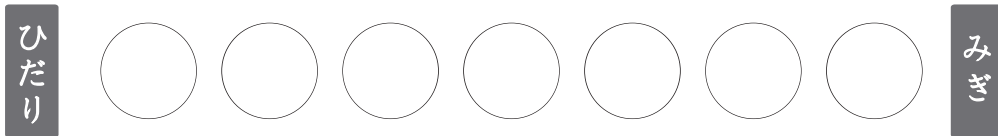
② ひだりから 3こめ



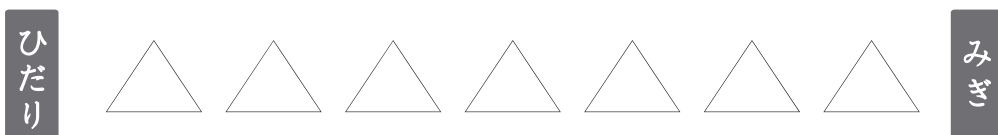
③ みぎから 4こ



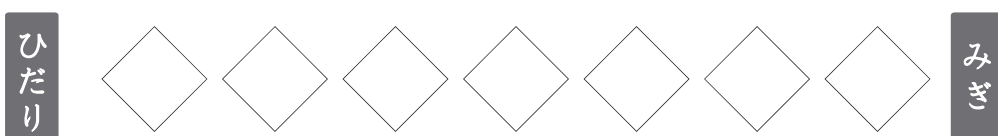
④ ひだりから 5こ



⑤ みぎから 6こめ



⑥ ひだりから 2こ



なんばんめ


じゅん ばん い ち かく にん
順番や位置を確認

が づ に ち し ふん じ ふん
月 日 時 分 ~ 時 分

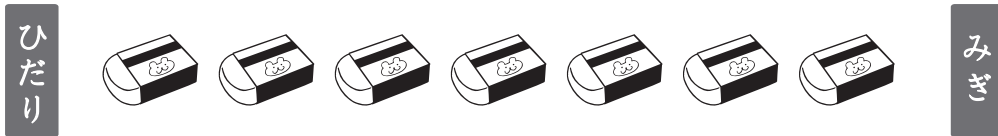
なまえ

もんだいを よんで こたえを まる で かこみましょう。
ちゅうい 「なんこめ」か「なんこ」かを よくよみましょう。

① みぎから 6ほんめ



② ひだりから 4こめ



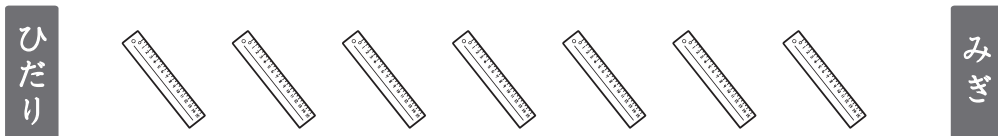
③ みぎから 5ほん



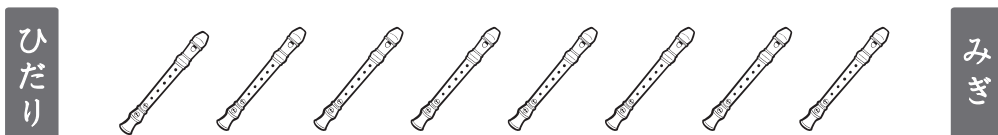
④ ひだりから 2さつ



⑤ みぎから 2こめ



⑥ ひだりから 6ほん



なんばんめ

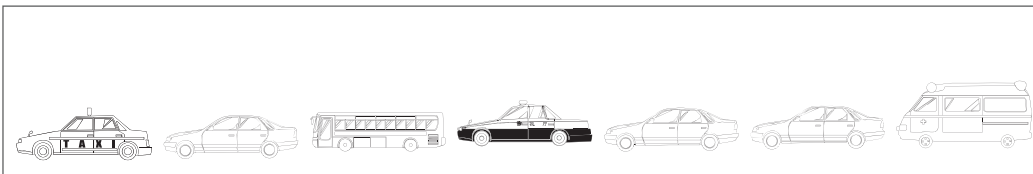
じゆん ばん い ち かく にん
順番や位置を確認

が につ 月 に ち 日 じ 時 ふん 分 ~ じ 時 ふん 分

なまえ

1 えをみてこたえましょう。

まえ



うしろ

- ① ぼくのくるまはまえから5だいめです。
ぼくのくるまに○をつけましょう
- ② ぼくのくるまはうしろからかぞえるとなんだいめですか？
- ③ ぼくのくるまのまえにはなんだいくるまがありますか？
- ④ ぼくのくるまのうしろにはなんだいくるまがありますか？
- ⑤ ぜんぶでくるまはなんだいありますか？
- ⑥ ぼくのくるまの2だいうしろのくるまはどんなくるまですか？
- ⑦ ぼくのくるまの1だいまえのくるまはどんなくるまですか？

なんばんめ

じゅん ばん い ち かく にん
順番や位置を確認

が につ 月 に ち 日 じ 時 ふん 分 ~ じ 時 ふん 分

なまえ

1 えをみてこたえましょう。

ひだり



みぎ

- ① わたしの だいすきな やさいは ひだりから 6ばんめにあります。
この やさいの なまえは なんでしょうか？
- ② この やさいは みぎから かぞえると なんばんめに なりますか？
- ③ ぜんぶで いくつ やさいが ならんでいますか？
- ④ わたしの だいすきな やさいの ひだりがわには
いくつ やさいが ならんでいますか？
- ⑤ わたしの だいすきな やさいの みぎがわには
いくつ やさいが ならんでいますか？
- ⑥ わたしの にがてな やさいは みぎから 3ばんめにあります。
この やさいのなまえは なんでしょうか？
- ⑦ この やさいは ひだりから かぞえると なんばんめ ですか？